

展鸿 2019 年浙江省嵊州市事业单位考试
《职业能力倾向测验》真卷

重要提示：

为维护您的个人权益，确保考试的公平公正，请您协助我们监督考试实施工作。

本场考试规定：监考老师要向本考场全体考生展示题本密封情况，并邀请 2 名考生代表签字后，方能开启试卷袋

准考证号：

姓名：

展鸿 2019 年浙江省金华市武义事业单位考试模拟卷
《职业能力倾向测验》

第一部分 常识判断

(共 15 题, 参考时限 10 分钟)

根据题目要求, 从以下四个选项中选择一个最合适的答案。

- 2019 年《政府工作报告》指出, 发展(), 加快建立远程医疗服务体系, 加强基层医疗卫生机构能力建设和医护人员培养, 提升分级诊疗和家庭医生签约服务质量。
A. “互联网+医疗健康” B. “生物医药”
C. “互联网+康复治疗” D. “医养结合”
- 2019 年 6 月 19 日是全国低碳日。今年低碳日的主题是()。
A. “携手节能低碳, 共建碧水蓝天” B. “绿色发展, 低碳创新”
C. “低碳行动, 保卫蓝天” D. “低碳城市, 宜居可持续”
- 王某冒用了金某的身份证与齐某结婚, 二人婚后感情不和, 齐某以结婚登记程序存在瑕疵为由提起民事诉讼, 主张撤销结婚登记, 法院应()。
A. 不予受理, 告知其先申请行政复议
B. 直接改为行政诉讼
C. 告知其可以依法申请行政复议或提起行政诉讼
D. 以上都不对
- 张某在市场上偷了刘某的钱包, 被刘某发现后追赶。眼看就要被刘某追上, 张某掏出匕首, 指着刘某说: “你过来, 我就捅了你!” 刘某不敢再追, 眼睁睁地看着张某跑掉。张某的行为构成()。
A. 抢夺罪 B. 抢劫罪 C. 盗窃罪 D. 盗窃罪和抢劫罪
- 有两种以上违反治安管理行为的, 分别决定, 合并执行。行政拘留处罚合并执行的, 最长不超过()。
A. 五日 B. 十日 C. 十五日 D. 二十日
- 某区政府决定关闭市内中学周边 300 米范围内的 KTV, 并给予受到损失的 KTV 以相应的补偿。该区政府的这一行为体现了行政许可的()。
A. 合法原则 B. 救济原则 C. 信赖保护原则 D. 公开公平公正原则
- 古诗《社日》写道: “鹅湖山下稻粱肥, 豚栅鸡栖半掩扉。桑柘影斜春社散, 家家扶得醉人归。” 立春后第五个戊日即社日, 又称春社, 它是我国古代劳动人民祭祀()的节日。
A. 灶神 B. 龙王 C. 山神 D. 土地神

8. 有清代学者在讨论唐诗时写道：“唐人作诗，惟适己意，不索人知其意。”在讨论宋诗时写道：“宋人作诗，欲人人知其意，故多直达。”下列诗句为唐朝人所作的是（ ）。
- A. 独怜幽草涧边生，上有黄鹂深树鸣。春潮带雨晚来急，野渡无人舟自横
 - B. 莫言下岭便无难，赚得行人空喜欢。正入万山圈子里，一山放过一山拦
 - C. 半亩方塘一鉴开，天光云影共徘徊。问渠那得清如许，为有源头活水来
 - D. 飞来山上千寻塔，闻说鸡鸣见日升。不畏浮云遮望眼，自缘身在最高层
9. 沙漠中生长的植物其叶子都比较小，而根却极深，其原因主要是（ ）。
- A. 沙漠中降雨量少，气候干旱，叶小是为了减少蒸发，根深利于吸收水分
 - B. 沙漠中生长的植物品种都是那种叶小根深的
 - C. 叶小有利减少日晒面积，不会被晒死
 - D. 根深不会被风吹倒
10. 冬天人们用煤炉取暖，而且窗户紧闭时有时会发生煤气中毒，其原因是（ ）。
- A. 煤燃烧用去了大部分的氧气，产生的二氧化碳使人窒息
 - B. 由于各种原因，煤不完全燃烧产生的一氧化碳会阻止人的血液与氧的结合
 - C. 煤炭中会含有少量硫等矿物质，其燃烧后产生的气体有剧毒
 - D. 有些人对煤燃烧后的气体过敏
11. 黄土高原位于我国北方地区与西北地区的交界处，下列省份主要位于黄土高原的是（ ）。
- A. 陕西省
 - B. 河南省
 - C. 山东省
 - D. 安徽省
12. 浙江省的省树和省花分别是（ ）。
- A. 银杏、桂花
 - B. 樟树、兰花
 - C. 樟树、紫丁香
 - D. 金钱松、山茶花
13. 下列词语与道家思想有关的是（ ）。
- A. 上善若水
 - B. 兼爱非攻
 - C. 简礼从俗
 - D. 六根清静
14. 超声波技术用途非常广泛，它使用类似于声波，但某项参数大于普通声波的振动技术来工作，所以称为超声波。这个大于普通声波的参数是（ ）。
- A. 波长
 - B. 振幅
 - C. 传播速度
 - D. 频率
15. 分子生物学的研究表明（ ）。
- A. 细胞是遗传信息的载体
 - B. 信息的获取、传递技术
 - C. DNA 是遗传信息的载体
 - D. 染色体是遗传信息的载体

第二部分 言语理解与表达

(共 30 题, 参考时限 25 分钟)

本部分主要考查考生对语言文字的理解和驾驭能力, 这种能力包括: 对词、句子、短文一般意思和特定意义的理解; 对比较复杂的概念和观点的准确理解; 根据上下文, 合理推断句子隐含的内容, 准确地辨明句义, 筛选信息等等。

16. 百年来, 谈论辛亥革命的论著文章汗牛充栋, 但_____不多。章士钊的当年论述和晚年静思, 往往_____, 令人心折。这段箴言, 值得人们反复沉思。

依次填入划横线部分最恰当的一项是 ()。

- A. 感人至深 一鸣惊人 B. 真知灼见 一针见血
C. 有感而发 醍醐灌顶 D. 有理有据 雷霆万钧

17. 总理在两会上所作的政府工作报告是一个_____民心、_____民意、体现民情的报告, 也是一个增强信心、鼓舞士气、催人奋进的报告。

依次填入划横线部分最恰当的一项是 ()。

- A. 代表 反应 B. 表现 反映 C. 表现 反应 D. 代表 反映

18. 在新时代, 我们要大力提升发展质量和效益, 坚持质量第一、_____质量变革、_____质量优势、建设质量强国、_____高质量发展。

依次填入划横线部分最恰当的一项是 ()。

- A. 发动 增强 追求 B. 提倡 增加 达到
C. 推动 增强 实现 D. 倡导 增加 完成

19. 保险公司在新时期最大的变化就是缩短了理赔时间, 遇到事故发生, 经_____确定属保险责任, 理赔人员于当日或次日就立即将赔款送交保户。

填入划横线部分最恰当的一项是 ()。

- A. 查对 B. 查访 C. 查办 D. 查勘

20. 民法基本原则是贯穿于整个民事法律制度和民事规范始终的根本原则, 对民事立法、民事司法和当事人民事活动具有_____的指导意义。不同的法律部门由于所_____的对象不同, 所应采取的基本原则也不同。

依次填入划横线部分最恰当的一项是 ()。

- A. 普遍 调整 B. 普适 针对 C. 全面 适用 D. 具体 覆盖

21. 无论是现代游戏, 还是传统游戏, 都_____出了一定的知识、社会和时代特征, 同时也_____了团结、多样性和包容的价值。但随着社会变迁和时代发展, 很多有价值的传统游戏正在一代又一代的_____中逐渐消逝。

依次填入划横线部分最恰当的一项是 ()。

- A. 反射 传播 更新 B. 折射 传递 更迭

③几乎，每个人都只能以一种既定的身份度过一生，有一个被赋予的名字，一段众所周知的经历，然后以此应付各种新旧的关系

④但是，我们不得不承认，也许谁都有过想隐匿自己、重新开始的时刻

⑤换句话说，你永远是你

⑥本质上那些行为也是一种身份重构，你可以借由某个角色的身份重新进入另一种崭新的生活，度过几个小时

将以上 6 个句子重新排列，语序正确的是（ ）。

A. ①⑥②⑤③④

B. ①②③⑤④⑥

C. ③④⑥②①⑤

D. ③②⑤④①⑥

34. 简单地说，综述主要是面向圈内人的，有时甚至主要是给业内同行看的，所以完全用纯专业的语言来叙述。但元科普著作就不一样，它的目标是本领域以外的人群，为此就需要由最了解这一行的人将知识的由来和背景，乃至科研的甘苦和心得，都梳理清楚，娓娓道来，这就是非亲历者所不能为的缘故。

这段文字意在说明（ ）。

A. 综述与元科普的联系

B. 综述与元科普的内涵

C. 综述与元科普的共性

D. 综述与元科普的区别

35. 当中国人居有其屋、行有私家车，衣食住行四大基本需求中，食的提升似乎就是城镇化最有爆发力的增长点了。而近年来商业地产泡沫膨胀，空置率一路飙高，商业引入餐饮似乎是两全其美的事。所谓“购物中心不是卖出来的，是吃出来的”，商场最关键的，就是钱流和客流，而餐饮培育期短，集聚客流效果好。餐饮之外，把顾客留住的方式还很多，娱乐更是一大块。于是乎，溜冰场、篮球场等体育设施、科技体验、语言教育、电影娱乐乃至小型主题公园等都向商场聚合，形成“一站式”购物中心。

根据这段文字，下列说法正确的是（ ）。

A. 中国人的衣食住行需求已经基本得到满足

B. 商场的餐饮消费营业额已经超过购物消费

C. 餐饮的存在能够帮助商场获取客流量

D. 餐饮的集聚作用正在被娱乐项目取代

36. 虚拟博物馆兴起于上世纪90年代，相比实体博物馆，虚拟博物馆可以展示所有的藏品，观众无需与藏品保持距离，只需轻点鼠标就可以从不同方位看到作品，并实现人机交互，因此不少人担心实体博物馆会逐渐失去魅力。而事实恰恰是，通过数字化的复制，人们了解到那些原作，便更想走进实体博物馆接触它们。

这段文字意在强调（ ）。

A. 虚拟博物馆与实体博物馆并不存在冲突

B. 虚拟博物馆使艺术传播的途径更加简单

C. 复制作品不能取代原作给人的心灵震撼

D. 博物馆虚拟化能极大实现艺术教育功能

37. 一个人，能认清自己的才能，找到自己的方向，已经不容易；更不容易的是，能抗拒潮流的冲击。许多人仅仅因为某件事情时髦或流行，就跟着别人随波逐流而去。他忘了衡量自己的才干与兴趣，因此把原有的才干也付之东流，所得到的只是一时的热闹，而失去了真正成功的机会。

下列选项中与本段语意不相符的一项是（ ）。

- A. 一个人只有认清自身，才有成功的可能
- B. 一个人只有确定目标，找准方向，才能有获得成功的机会
- C. 一个人要随波逐流，坚持下去，才有可能获得成就
- D. 一个人要把握自己的志趣和才干，坚持专一，才有获得成就的可能

38. 有人从法律操作的层面提出，农民画申遗会造成著作权认定的矛盾，因为国家和民族的文化遗产，作者是集体性和匿名性的。而农民画的作者非常明确，具有著作权法所规定的主客体条件。

根据文意，下列说法不正确的是（ ）。

- A. 农民画作者拥有作品的著作权
- B. 农民画不属于国家或民族的文化
- C. 文化遗产通常不能属于单一个体
- D. 著作权性质可能影响农民画申遗

39. 一线城市的高房价以及 90 后年轻人对生活品质的追求，催生了租赁公寓的兴起。租赁公寓迎合了年轻人的消费观念，租房由过去的不得已转变成享受生活的一种方式。据调查，虽然拥有自己的住房仍是 90 后的刚性需求，但他们当中只有 30% 愿意为了买房而降低生活质量；另有 56% 的 90 后不愿意买房，因为房贷过于沉重会降低生活质量。由此观之，这些更看重个人价值的 90 后，可能成为“不买房一代”。

这段文字意在强调（ ）。

- A. 许多 90 后不愿为了买房降低生活质量
- B. 90 后年轻人未来的买房需求非常旺盛
- C. 租房是大多数人更易于接受的居住方式
- D. 城市高房价影响多数年轻人的购房意愿

40. 气凝胶孔内的空气使其成为隔音超级明星，可以用来制作隔音墙，厚度 1 厘米的气凝胶就相当于 5 厘米优质泡沫塑料的隔音效果。气凝胶能使玻璃窗比传统双层硅酸盐玻璃窗更保暖，质量却比后者轻得多。高端冬季运动服也纷纷使用气凝胶。新款谷歌平板电脑也使用了特制的气凝胶，使其质量比传统的减少一半。

从上述文字无法获知的论断是（ ）。

- A. 气凝胶具有优良的隔音效果
- B. 气凝胶取代了传统的玻璃窗
- C. 气凝胶有着不错的应用前景
- D. 气凝胶产品有质量轻的特点

阅读以下材料，回答 41~45 题。

英国皇家证券交易所创建者托马斯·格雷欣在 450 多年前阐述了一种货币替代现象：在金属货币条件下，当两种实际价值不同而名义价值相同的货币同时流通时，成色和重量足值的金属货币即良币将逐渐减少，而不足值的金属货币即劣币逐渐增加，形成良币退藏、劣币充斥的现象，这被称为“格雷欣法则”，亦称“劣币驱逐良币法则”。这种现象在金属货币时代不断上演，是政府苦心防范的难题，亦可视为金属货币的流通规律，还预示着纸币对金属货币的取代趋势。

纸币最初是金属货币的符号，规定其单位纸币的含金量。随着实体经济高速发展，贵金属的开采无法适应经济增长的速度和规模，加之金属货币在使用时有诸多不便，20 世纪 70 年代，全球范围内各国流通的纸币最终与贵金属彻底脱钩，独立承担起货币职能。这标志着维持经济运转数千年的金属货币及

同贵金属挂钩的兑现纸币最终退出历史舞台，各国乃至国际货币进入了现代信用（不兑现）纸币时代。纸币自身的成本与其代表的价值之间存在巨大差异，纸币完全是靠国家信用和经济实力发行的。纸币购买力同发行量成反比，超量发行的纸币必然受到恶性通货膨胀的制裁。因此，在现代信用纸币条件下，“格雷欣法则”发生了根本性逆转，从“劣币驱逐良币”变为“良币驱逐劣币”。

在现代信用纸币制度下，大凡能在国际上扩张进而成为国际货币的货币都是良币，有三大特征：一是币值的内外稳定性，即货币的保值和升值效应；二是广泛的国际流动性，即在国际贸易和国际投资中广泛使用；三是具备国际储备功能，即能够保证国家经济和币值安全。

自 20 世纪 80 年代以来，中国进入了经济飞速增长的时期，从贫穷落后的发展中国家跃居为全球第二大经济体并开始产生辐射效应，人民币金融版图开始向周边扩张，人民币正在成为国际区域货币。需要指出的是，日元国际化的经验教训值得汲取。在现代信用纸币“良币驱逐劣币”规律的作用下，一国货币的国际化是以该国经济长期平稳增长，进而使其货币币值长期稳定为支撑的，否则，货币国际化就会_____。人民币若想成为多元国际货币体系中的一极，成为国际区域货币乃至国际货币，必须始终保持良币状态，即保持币值稳定，维持汇率均衡，避免货币过度贬值和升值，既要防范货币贬值引发资本疯狂外流的货币危机，亦要防止货币高估对经济竞争力的损害。而防范开放经济条件下外部冲击的根本措施就是币值稳定，只有币值稳定，人民币才会具备国际流动性和国际储备货币的功能。

币值稳定是依靠强大的经济实力和稳定的货币政策维持的；广泛的国际流动性和国际储备功能是依靠货币信用、货币持有的规模和功能完善的金融市场维持的。做好内功，保持自己在全球诸多现代信用纸币中的良币本色，这应该是人民币走向国际化的根基，也是人民币具有国际竞争力的根本所在。

41. 根据本文，下列哪一现象符合“格雷欣法则”？（ ）
- A. 公元前 3 世纪，秦朝统一货币，行半两（二十四铢为一两）钱法
B. 唐高祖武德四年（621 年），李渊决心改革币制，废轻重不一的历史古钱，取“开辟新纪元”之意，统一铸造“开元通宝”钱
C. 汉初允许民间铸币，市面上不仅有比法定钱币重量更轻的钱币流通，甚至还有掺假的伪币流通
D. 元朝是中国古代纸币最为兴盛的时期。大部分时期里，纸钞是唯一官方认可的货币，完全取代了铜钱在流通中的地位
42. “格雷欣法则”发生根本性逆转的原因是（ ）。
- A. 各国政府加强了对货币的管制
B. 纸币与贵金属的关系发生变化
C. 国际金融体系进行重组
D. 恶性通货膨胀频繁发生
43. 填入第 4 段划线处最合适的一项是（ ）。
- A. 以卵击石 B. 空中楼阁 C. 釜底抽薪 D. 昙花一现
44. 下列哪组最适合作为本文的关键词？（ ）
- A. 格雷欣法则 货币国际化 人民币
B. 纸币劣币 驱逐良币 现代金融制度
C. 金属货币 汇率 现代信用纸币制度
D. 贵金属 币值稳定 通货膨胀
45. 这篇文章主要探讨了（ ）。
- A. “格雷欣法则”失效的历史背景沿革
B. 人民币成为国际化货币的前提和要求
C. 纸币独立承担货币职能所带来的风险
D. 金属货币在现代金融秩序中的独特价值

第三部分 数量关系

(共 20 题, 参考时限 20 分钟)

一、数字推理。给你一个数列, 但其中缺少一项, 要求你仔细观察数列的排列规律, 然后从四个供选择的选项中选择你认为最合理的一项, 来填补空缺项, 使之符合原数列的排列规律。

46. 1, 1, 5, 13, 41, ()

A. 53 B. 79 C. 95 D. 121

47. 1, 3, -1, -5, 11, ()

A. -49 B. -1 C. -61 D. 0

48. 0, 2, 7, 4, 26, 6, 63, 8, ()

A. 124 B. 9 C. 71 D. 99

49. 3, 10, 29, 84, ()

A. 166 B. 247 C. 275 D. 280

50. 110, 121, 143, 385, ()

A. 242 B. 363 C. 6126 D. 8168

51. 1, 11, 23, 39, (), 91

A. 57 B. 61 C. 65 D. 69

52. -1, 3, 1, 7, 9, 23, ()

A. 25 B. 37 C. 39 D. 41

53. 2, 6, 16, 44, (), 328

A. 120 B. 110 C. 108 D. 104

54. 1, 0, 9, 16, (), 48

A. 25 B. 33 C. 36 D. 42

55. 4, 9, 8, 11, 12, ()

A. 13 B. 14 C. 17 D. 19

二、数学运算。每道试题呈现一道算术式, 或者表述数字关系的一段文字, 要求你迅速、准确地计算或者论证出答案。

56. 甲、乙、丙三所学校的学生被安排在周一至周五参观某革命纪念馆。纪念馆每天最多只能安排一所学校, 其中甲学校连续参观两天, 其余学校均只参观一天, 那么共有多少种安排方法? ()

A. 12 B. 24 C. 36 D. 60

57. 为维护办公环境, 某办公室四人在工作日每天轮流打扫卫生, 每周一打扫卫生的人给植物浇水, 7月5日周五轮到小玲打扫卫生, 下一次小玲给植物浇水是哪天? ()

A. 7月15日 B. 7月22日 C. 7月29日 D. 8月5日

58. 小李 3 月 1 日上午 9 点出发，步行前往 100 公里外的终点。已知小李每小时可以前进 4 公里，每步行 90 分钟休息 15 分钟，问小李第二天什么时候可以到达终点？（ ）

- A. 10 点 B. 10 点 15 分 C. 14 点 D. 14 点 15 分

59. 有一项工程，甲、乙、丙合作一天完成了工程的 $\frac{5}{6}$ ，已知甲、乙、丙单独完成这项工程所用时间均为整数天数，且甲单独完成这项工程所用天数大于乙，乙所用天数大于丙。问甲、乙合作完成整个工程需要几天？（ ）

- A. 3 B. 4 C. 5 D. 6

60. 超市采购两种不同口味的散装巧克力共 x 斤，售价分别为 30 元/斤和 50 元/斤，预计总收入为 y 元。如将其混合后以 40 元/斤的价格销售，总收入将为 $1.25y$ 元。问采购了 30 元/斤的巧克力多少斤？（ ）

- A. $0.9x$ B. $0.95x$ C. $0.75x$ D. $0.8x$

61. 某班共有 84 人，打算组织游湖，有两种游船可供租乘，大船每船可坐 6 人，小船每船可坐 4 人，该班刚好租乘 18 只船，则大船租乘了（ ）只。

- A. 6 B. 8 C. 10 D. 12

62. 某种鸡尾酒的酒精浓度为 20%，由 A 种酒、B 种酒和酒精浓度（酒精重量 ÷ 酒水总重量）10% 的 C 种酒按 1:3:1 的比例（重量比）调制而成。已知 B 种酒的酒精浓度是 A 种酒的一半，则 A 种酒的酒精浓度是（ ）。

- A. 36% B. 30% C. 24% D. 18%

63. 甲乙两地位于不同时区，小张早上 10 点从甲地乘飞机到乙地，到达的时间为当地时间早上 10 点，第二天下午 4 点 30 分从乙地飞回甲地，到达的时间为当地时间 22 点 30 分。如果两次飞行时间相同。那么，当甲地时间为中午 12 点时，乙地时间为（ ）。

- A. 8 点 30 分 B. 9 点 C. 9 点 30 分 D. 10 点

64. 老张购进一批商品，共 20 件。销售时，每件合格的商品可以赚 50 元，不合格的商品一件亏损 20 元。他卖出的这 20 件商品中有几件是不合格的，那么卖出这批商品可能赚（ ）。

- A. 690 元 B. 720 元 C. 780 元 D. 850 元

65. 手工制作一批元宵节花灯，甲、乙、丙三位师傅单独做，分别需要 40 小时、48 小时、60 小时完成。如果三位师傅共同制作 4 小时后，剩余任务由乙、丙一起完成，则乙在整个花灯制作过程中所投入的时间是（ ）。

- A. 24 小时 B. 25 小时 C. 26 小时 D. 28 小时

第四部分 判断推理

(共 20 题, 参考时限 20 分钟)

一、类比推理。先给出一对相关的词, 要求你在备选答案中找出一对与其在逻辑关系上最为贴近或相似的词。

66. 势均 : 力敌

A. 旗鼓 : 相当

C. 不相 : 上下

67. 面粉 : 面包

A. 奶牛 : 奶粉

C. 铁矿 : 铁路

68. 将军 : 军衔

A. 厨师 : 刀工

C. 医生 : 病历

69. 希望 : 渴望

A. 精确 : 正确

C. 讨厌 : 厌恶

70. 左顾右盼 : 上下打量

A. 南来北往 : 东西奔走

C. 千叮万嘱 : 一心一意

71. 困境 : 面对

A. 问题 : 解决

C. 攀登 : 山峰

72. 学校 : 学生

A. 监狱 : 警察

C. 工厂 : 工人

73. 门可罗雀 : 无人问津

A. 大相径庭 : 不相上下

C. 指鹿为马 : 张冠李戴

74. 设计 : 发放 : 问卷

A. 播放 : 快进 : 磁带

C. 复制 : 修改 : 文字

75. 成长 : 衰亡

A. 坚定 : 彷徨

B. 并驾 : 齐驱

D. 平分 : 秋色

B. 楼面 : 楼房

D. 石头 : 石桥

B. 警察 : 电棍

D. 科员 : 职级

B. 提升 : 提拔

D. 接收 : 接受

B. 纵横交错 : 中西合璧

D. 天高地厚 : 山清水秀

B. 人生 : 信仰

D. 社会 : 和谐

B. 医院 : 医生

D. 游船 : 船员

B. 众说纷纭 : 异口同声

D. 发人深省 : 执迷不悟

B. 制定 : 执行 : 政策

D. 预习 : 复习 : 考试

B. 美好 : 苦难

C. 深刻：纯真

D. 复杂：单纯

二、演绎推理。每道题给出一段陈述，这段陈述被假设是正确的，不容置疑的，要求你根据这段陈述，选择一个答案。注意，正确的答案应与所给的陈述相符合，不需要任何附加逻辑即可以从陈述中直接推出。

76. 某单位要从甲、乙、丙、丁、戊、己 6 名工作人员中选派 3 名参加省职业技能大赛。有 4 位评委分别提出了自己的意见：

- (1) 甲、丙二人中至少选一人； (2) 乙、戊二人中至少选一人；
(3) 乙、丙二人中至多选一人； (4) 甲、丁二人中至多选一人。

后来得知，戊因病不能参赛，并且上述 4 位评委的意见都得到了尊重。

根据上述信息，该单位选派的参赛选手是（ ）。

- A. 甲、乙、丙 B. 甲、乙、丁
C. 甲、乙、己 D. 丙、丁、己

77. 约翰喜欢攀岩和射击运动。他的大学同学中没有一个既喜欢攀岩，又喜欢射击，但他所有的中学同学和大学同学都喜欢游泳。

若上述断定为真，以下哪项不可能为真？（ ）

- A. 除攀岩和射击外，约翰也喜欢游泳
B. 约翰所有的同学都喜欢游泳
C. 约翰喜欢的所有运动，他有一半中学同学也都喜欢
D. 约翰喜欢的所有运动，他有一半大学同学也都喜欢

78. 小张对小李说：“红色象征着热情，我一看到红色就热血沸腾。”小李于是书写了“红色”两个字，对小张说：“你觉得热血沸腾吗？”

下面句子逻辑表述方法与所给题干一致的是（ ）。

- A. 小李对小张说：“海水咸吗？要不，你去尝尝那两个字，看看有咸味不？”
B. 小李对小张说：“你的朋友真是个好人啊，你看，长得就非常漂亮。”
C. 小李对小张说：“一年四季都有花盛开，花就如美女一样，人人爱看。”
D. 小李对小张说：“这个人真麻烦，一点麻烦都解决不了。”

79. 甲、乙、丙三位老师分别教语文、数学和英语三门科目中的一门。已知英语老师是一个学生的叔叔；甲上课全用汉语；丙是女的，比数学老师年轻。

根据上述条件，甲、乙、丙各教什么科目？（ ）

- A. 甲：英语，乙：语文，丙：数学 B. 甲：语文，乙：英语，丙：数学
C. 甲：数学，乙：英语，丙：语文 D. 甲：语文，乙：数学，丙：英语

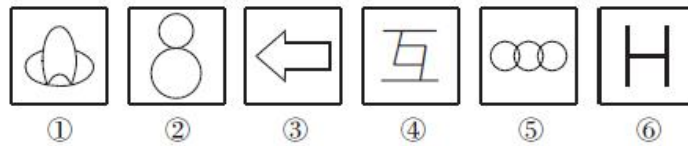
80. 德国经济在席卷全球的金融危机当中受到的冲击与其他发达国家相比较小，主要原因是德国经济建立在先进制造业的基础上，德国的机械装备和汽车制造业保持了很强的竞争力。一些人根据德国的例子得出结论：只有具备强大的制造竞争水平，一个国家的经济才有高度的稳定性。

如果以下各项为真，哪项能够质疑上述结论？（ ）

- A. 有些制造业不发达的国家在金融危机中受影响较小
- B. 某国制造业不发达，该国经济一直动荡不安
- C. 有些国家保持长期经济稳定，却没有发达的制造业
- D. 有些国家制造业很发达，但经济并没有长期保持稳定

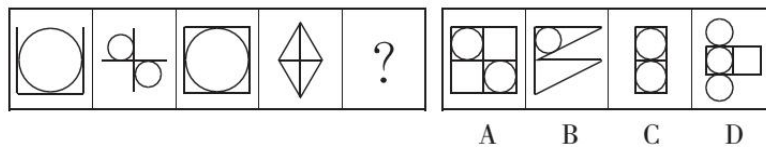
三、图形推理。请按每道题的答题要求作答。

81. 把下面的六个图形分为两类，使每一类图形都有各自的共同特征或规律，分类正确的一项是（ ）。

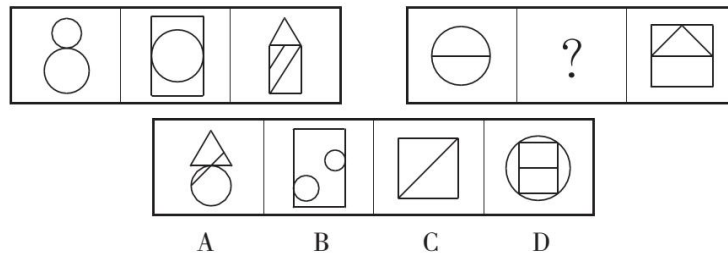


- A. ①④⑥，②③⑤
- B. ①③④，②⑤⑥
- C. ①②⑤，③④⑥
- D. ①③⑤，②④⑥

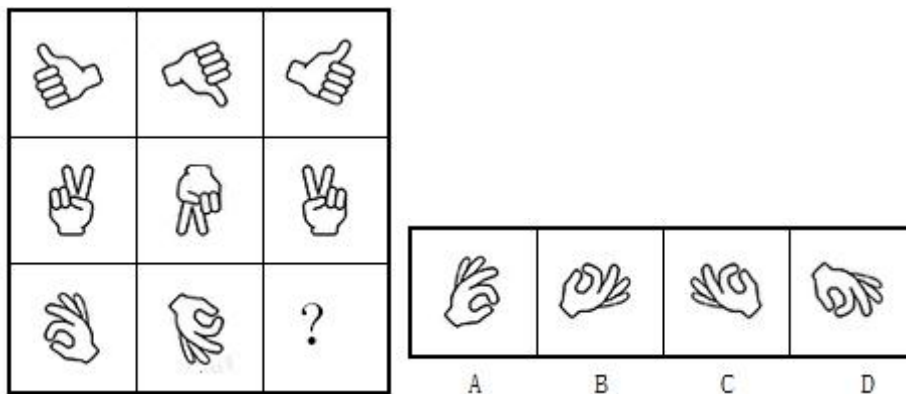
82. 观察下列图形，填入问号处最合适的一项是（ ）。



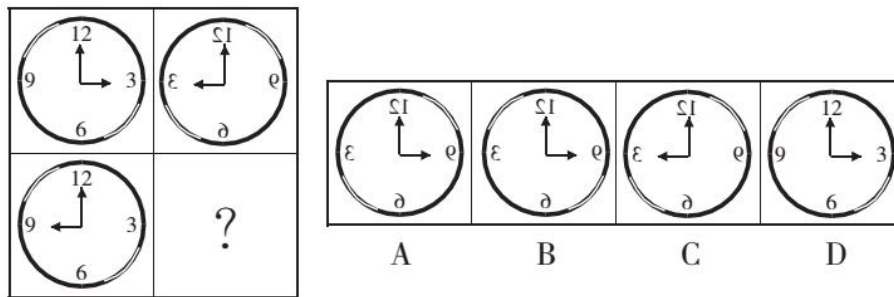
83. 观察下列图形，填入问号处最合适的一项是（ ）。



84. 观察下列图形，填入问号处最合适的一项是（ ）。



85. 观察下列图形，填入问号处最合适的一项是（ ）。



第五部分 资料分析

(共 15 题, 参考时限 15 分钟)

所给出的图、表、文字或综合性资料均有若干个问题要你回答, 你应根据资料提供的信息进行分析、比较、计算和判断处理, 在四个选项中选出一个正确答案。

一、根据所给资料, 回答 86~90 题。

某年度某机构关于中国宠物主人消费行为及倾向调查回收的 10680 份有效问卷显示: 女性养宠者占 58.1%, 宠物主人为“80~90 后”占 79.5%。将宠物定义为“孩子”“亲人”“朋友”和“宠物”的分别为 54.5%、33.4%、7.7%和 3.2%。8.9%的人月开销在 100 元以内, 49.4%的人开销在 101 至 500 元之间, 而花费在 501 至 1000 元之间的达到 25%, 月消费 1000 元以上的人群达到 16.4%。在购买物品方面, 购买宠物食物的人数达到有效问卷总人数的 94.5%, 其次为药品、保健品以及日用品、玩具、服饰五项, 均接近 60%。宠物主人外出时, 四成“委托亲朋照顾”, 三成“一起带走”, 委托寄养还不到 20%。在训练方面, 99%的宠物处于自主训练或放任生长的状态, 但近一半人希望爱宠得到专业训练。在购买渠道方面, 74%的被访问者选择综合电商平台, 选择线下综合商店或专卖店者为 53.3%, 选择宠物类垂直电商平台的占 33.6%, 但其复购率更高。值得注意的是, 目前宠物主人对购物类 O2O 服务有选择意向的不足 4.0%。

86. 问卷中, 男性养宠者占养宠人群的比重为 ()。

- A. 58.1% B. 51.9% C. 41.9% D. 40.9%

87. 问卷中对宠物没有花费的人数约为 ()。

- A. 38 B. 36 C. 34 D. 32

88. 问卷中, 选择综合电商平台和选择购物类 O2O 服务的消费者人数之比为 ()。

- A. 小于 2.2:1 B. 大于 2.2:1 C. 小于 18.5:1 D. 大于 18.5:1

89. 问卷中, 在药品、保健品以及日用品、玩具、服饰方面有花销的总人次最可能有 ()。

- A. 6408 B. 9612 C. 16020 D. 32040

90. 根据问卷, 下列判断错误的是 ()。

- A. 只有 1%的宠物接受过训练, 专业训练消费潜力巨大
B. 绝大部分宠物主人对宠物的定义超越了宠物本身

- C. 月均消费在 101~1000 元的是宠物消费的主流
 D. 购物类 O2O 服务的市场还有待培育

二、根据所给资料，回答 91~95 题。

2017 年一季度我国进出口贸易方式和企业性质情况

项 目		出 口		进 口	
		金额 (亿元)	同比 (%)	金额 (亿元)	同比 (%)
总 值		33268	14.8	28718	31.1
贸易方式	一般贸易	17648	11.6	17217	37.8
	加工贸易	11434	15.6	6484	19.5
	其他贸易	4186	27.8	5017	25.9
企业性质	国有企业	3604	14.1	7410	50.8
	外商投资企业	14698	12.9	13229	21.1
	其他企业	14966	16.9	8065	32.9

91. 2017 年一季度我国出口额最大的贸易方式，其出口额占总出口额的比重约是 ()。
- A. 52.3% B. 53.0% C. 53.7% D. 55.1%
92. 将下列我国进出口贸易项目按 2017 年一季度同比增长量从高到低排序，正确的是 ()。
- A. 国有企业进口额、国有企业出口额、加工贸易出口额、一般贸易进口额
 B. 一般贸易进口额、国有企业进口额、加工贸易出口额、国有企业出口额
 C. 国有企业进口额、国有企业出口额、一般贸易进口额、加工贸易出口额
 D. 一般贸易进口额、国有企业进口额、国有企业出口额、加工贸易出口额
93. 下列我国进出口贸易项目中，2016 年一季度数额最大的是 ()。
- A. 加工贸易进口额 B. 其他企业进口额
 C. 其他贸易出口额 D. 其他贸易进口额
94. 与 2016 年一季度相比，2017 年一季度外商投资企业进口额占我国总进口额的比重大约 ()。
- A. 上升了 0.4 个百分点 B. 下降了 3.8 个百分点
 C. 上升了 3.8 个百分点 D. 下降了 0.4 个百分点
95. 能够从上述资料中推出的是 ()。
- A. 2016 年一季度其他企业出口额约为 12800 亿美元
 B. 2017 年一季度加工贸易的贸易顺差为 5950 亿元
 C. 2016 年一季度国有企业出口额占我国出口总额的比重超过一成
 D. 在企业性质中，2017 年一季度外商投资企业进出口额在我国进出口总额中占比均最高

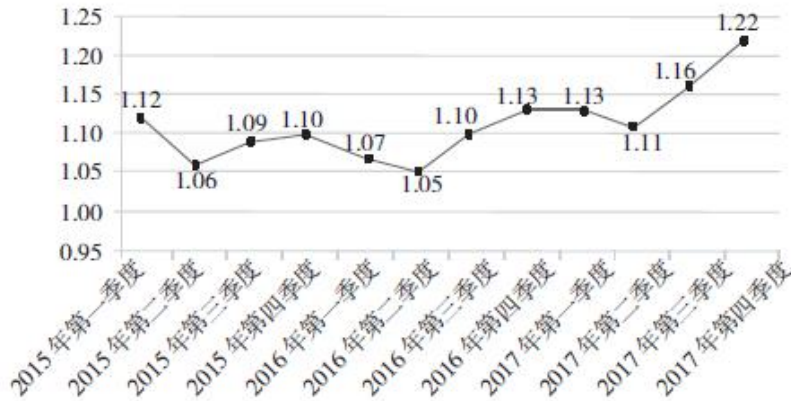
三、根据所给资料，回答 96~100 题。

2017 年第四季度，人力资源部门对东、中、西三大区域共 95 个城市的公共就业服务机构市场供求信息进行了统计分析，部分数据如下：

总体而言，用人单位通过公共就业服务机构招聘各类人员约 433.7 万人，进入市场的求职者约 354.2 万人，岗位空缺与求职人数的比率约为 1.22，比去年同期上升 0.09，市场需求略大于供给。

与去年同期相比，需求人数增加 15.6 万人，求职人数减少 17.3 万人。与上季度相比，需求人数和求职人数分别减少了 58.9 万人和 73.2 万人，各下降了 12% 和 17.2%。

2015 年第一季度~2017 年第四季度岗位空缺与求职人数比率变化趋势



分区域看，东、中、西部市场岗位空缺与求职人数的比率分别为 1.22、1.18、1.29，市场需求均略大于供给。

2017 年第四季度与去年同期相比东、中、西部市场供需变化情况

区域	市场用人需求		求职人数	
	增加量(万人)	增长率(%)	增加量(万人)	增长率(%)
东部	15	7.1	-12.2	-6.2
中部	0.5	0.4	-0.4	-0.4
西部	0.1	0.2	-4.7	-7.4

96. 2017 年第四季度岗位空缺与求职人数比率较第三季度上升了（ ）。
- A. 0.03 B. 0.06 C. 0.09 D. 0.12
97. 2015~2017 年，各季度的岗位空缺与求职人数比率的平均值约为（ ）。
- A. 1.07 B. 1.09 C. 1.11 D. 1.13
98. 2017 年第四季度求职人数比 2016 年第四季度下降了约（ ）。
- A. 5% B. 8% C. 10% D. 12%
99. 2015~2017 年，人力资源市场供给最能满足市场需求的是（ ）。
- A. 2015 年第三季度 B. 2016 年第二季度
- C. 2017 年第一季度 D. 2017 年第四季度
100. 根据材料，下列说法正确的是（ ）。
- A. 2015 年第一季度以来，东、中、西三大区域市场需求长期大于供给
- B. 2016 年第二季度以来，岗位空缺与求职人数比率总体呈“W”型变化趋势
- C. 2017 年第三季度东、中、西三大区域人才市场中，西部市场岗位空缺与求职人数的比率最大
- D. 2016 年第四季度，中部市场岗位空缺与求职人数的比率约为 1.25