

2018年
诸
暨
事
业
单
位
考
试
真
卷

《综合应用能力》
+
《职业能力倾向测验》

展鸿 2018 年诸暨事业单位招聘考试笔试模拟卷

《综合应用能力》

(限时 120 分钟)

说明：

客观题、主观题均在答题纸上作答，凡答在试题本上的无效。拿到题本、答题纸后，先认真检查是否有缺页、漏页、破损或污迹，若有应立即向监考人员提出更换。主观题请合理利用答题区域，答题纸请勿折叠。否则，影响成绩，后果自负。

一、单项选择题（每小题 1 分，共 20 分。每小题的备选答案中只有一个最符合题意）。

1. 2018 年中央一号文件指出，实施乡村振兴战略是决胜全面建成小康社会、全面建设社会主义现代化国家的重大历史任务，是新时代“三农”工作的总抓手，下列对乡村振兴战略的理解，正确的是（ ）。

- ①实施乡村振兴战略是党的十九大作出的重大决策部署
- ②实施乡村振兴战略必须强化制度建设、人才支撑和投入保障
- ③摆脱贫困是乡村振兴的前提，必须坚持精准扶贫、精准脱贫
- ④到 2050 年，乡村振兴取得决定性进展，农业农村现代化基本实现

A. ①②③ B. ①②④ C. ①③④ D. ②③④

2. 博鳌亚洲论坛 2018 年年会于 4 月 8 日至 11 日在海南博鳌举行，年会主题是（ ）。

- A. “直面全球化与自由贸易的未来”
- B. “亚洲新未来：新活力与新愿景”
- C. “亚洲新未来：迈向命运共同体”
- D. “开放创新的亚洲 繁荣发展的世界”

3. 6 月 9 日至 10 日，上海合作组织成员国元首理事会第十八次会议在青岛举行。17 年来，“上海精神”既是上合组织的核心理念，也成为国际关系宝贵的精神财富。“上海精神”是指（ ）。

- A. 互利、互惠、平等、协商、尊重多样文明、谋求共同发展
- B. 互信、互利、平等、协商、尊重各国主权平等、谋求共同发展
- C. 互信、互利、平等、协商、尊重多样文明、谋求共同发展
- D. 互利、互惠、平等、协商、尊重各国主权平等、谋求共同发展

4. “人类被赋予了一种工作，那就是精神的成长，提升我们的精神高度，加厚时代的道德河床，从来都是古今共同的话题。”关于“道德”，从历史唯物主义的角度分析我们应该（ ）。

- ①树立正确的意识，意识能够决定历史发展方向
- ②坚持正确的价值判断和价值选择
- ③自觉站在最广大人民的立场上
- ④利用社会 and 他人提供的各种物质条件

A. ②③ B. ①② C. ①②③ D. ②④

5. 在微观世界中，有两个共同来源的微观粒子，即使隔着一个太阳系，只要其中一个粒子状态发生变化，另一个状态立即发生相应变化，如同一对有“心灵感应”的双胞胎，这就是被爱因斯坦等著名科学家称作“幽灵般的超距离作用”的“量子纠缠”。这表明（ ）。

- ①微观世界同样可以被人类所认知
- ②实践是检验认识真理性的唯一标准
- ③两个处于纠缠态的量子间的联系是客观的
- ④科学预言是科学实验取得成功的必要前提

A. ①③ B. ②③ C. ①④ D. ②④

6. 实现“两个一百年”奋斗目标、实现中华民族伟大复兴的中国梦，不断提高人民生活水平，必须坚定不移把（ ）作为党执政兴国的第一要务。

- A. 创新 B. 改革 C. 发展 D. 开放

7. 一国政府为了控制 CPI 的快速上涨，实行适度从紧的财政政策和货币政策，一般情况下，这会导致（ ）。

- A. 恩格尔系数的上升 B. 就业机会的增加
C. 经济增长速度的放慢 D. 通货膨胀

8. 流动资产是指可以在 1 年或者超过 1 年的一个营业周期内变现或耗用的资产，具体包括银行存款、应收款项、预付款项、存货、现金等。其中（ ）是流动性最强的资产。

- A. 现金 B. 银行存款 C. 预付款项 D. 存货

9. 政府推进大众创新创业工作，降低创新创业门槛，深化商事制度改革，为创业企业工商注册提供便利；对众创空间等新型孵化机构的房租、宽带接入费用和公共软件等给予适当财政补贴。这样做有利于（ ）。

- A. 完善分配制度，政府统筹安排就业
B. 强调政府在就业创业中的主导作用
C. 巩固政府在资源配置中的基础性作用
D. 发挥财政在促进社会公平、改善民生方面的作用

10. 在我国，如果某省级人大制定的地方性法规与国务院某部委制定的部门规章相抵触时，（ ）。

- A. 地方性法规无效 B. 部门规章无效
C. 由最高人民法院裁决 D. 由国务院提出意见

11. 我国刑法规定的时效是指（ ）。

- A. 公安机关办理刑事案件的期限
B. 司法机关对犯罪分子追究刑事责任的有效期限
C. 检察机关提起公诉的期限
D. 人民法院审判案件的期限

12. 《最高人民法院关于审理食品药品纠纷案件适用法律若干问题的规定》中明确规定明星代言虚假广告需要承担责任。这说明公民在参与公共生活时必须坚持（ ）。

- A. 法律面前一律平等的原则 B. 个人利益国家利益相结合的原则

今年，为了移风易俗，加强土地循环利用，国家开始在一批试点城市和地区推进殡葬改革，在这些试点地区推行火葬，不再进行土葬。

2018年4月起，J省S市正式推开殡葬改革，其中一项标准是大力推行绿色殡葬，确保2020年年底之前全市火化率达到100%。J省有些地方也明确提出，全面完成棺木收缴，实现群众家中无棺木存放，从业人员无棺木工匠，流通市场无棺木销售。多地甚至出现了“抢棺砸棺”的场景：执法队进村入户，强行将村民的棺材抬走，经挖掘机捣毁，棺材化为碎木。更有甚者，不仅活人的要抢，死人也不放过。甚至，有位老人已经下葬了，当地官员强行将墓掘开，把棺材撬出来，将尸体抬出火化……场景甚是“壮观”。

这样的“壮观”场面，简直让人悲愤交加，欲哭无泪！很多老人眼睁睁看着陪自己多年的棺材要成一堆废木，忧愁愤怒无处诉说，有的老人默默流下眼泪，更多的老人则是大声痛哭。还有老人看着棺材被拖走，他们跳进棺材，要与棺材一起“走”，任人劝说，怎么都不肯爬起来，最后执法队强行把老人拖出来……

问题：

1. 绿色殡葬的意义有哪些？（6分）

要求：准确、全面，不超过150字。

2. 你认为政府应该采取哪些合理有效的措施推行绿色殡葬？（9分）

要求：措施合理，针对性强，条理清晰，不超过300字。

五、写作题（共45分）

发展现代农业，很大程度上取决于农业劳动者的素质，加快建设“留得住、用得上、养得起”的农村实用人才队伍，是解决“三农”问题的根本之策。

目前农村实用人才总量严重不足，与发展现代农业、推进新农村建设的实际需求差距较大。农村急需的经营型、技术服务型、技能带动型人才较为短缺，人才结构不尽合理。此外，人才分布呈现出自南向北、从东到西递减趋势，且多集中在经济较强的乡镇、交通便利的城郊，偏远地区农村的实用人才相对较少。具有大专以上学历的占比仅12%左右，素质总体不高，人才老化问题也日益突出。同时，随着工业化、城镇化的快速推进，城乡之间的收入、工作环境、生活条件等差距拉大，农村地区很难留住人才，大批优秀农村青年跳出农门，进入城镇就业创业，农村人才流失严重。

李克强总理曾指出，要“健全农村‘双创’促进机制，支持农民工返乡创业，鼓励高校毕业生、退役军人、科技人员到农村施展才华。”人才是农业和农村经济社会发展第一资源，要把农村实用人才队伍建设和农村人力资源开发，作为人才强国战略的重要内容，科学制定人才培养规划，创新人才培养机制，提高农民的整体素质。

结合材料，根据你对农村人才队伍建设的思考，自选角度，自拟题目，写一篇议论文，字数在800~1000字。

展鸿 2018 年诸暨事业单位招聘考试模拟卷
《职业能力倾向测验》

第一部分 言语理解与表达

(共 30 题, 参考时限 25 分钟)

每道题包含一段话或一个句子, 后面是一个不完整的陈述, 要求你从四个选项中选出一个来完成陈述。注意: 答案可能是完成对所给文字主要意思的提要, 也可能是满足陈述中其他方面的要求, 你的选择应与所提要求最相符合。

1. 下列词语中, 加点字的读音正确的一项是 ()。

- A. 滂(páng)沱 B. 押解(jiè) C. 徇私(xún) D. 碑帖(tiè)

2. 下列词语中, 没有错别字的一项是 ()。

- A. 病入膏肓 同舟共济 B. 戎马生涯 白璧微暇
C. 针贬时弊 不计其数 D. 风起云涌 峨冠博带

3. 只要观察一下语言的变迁史, 就会发现, 语言体系一直具有强悍的自我_____机制, 会以一种温和的集体_____模式, 淘汰那些失效的语词。这意味着语言会利用时间效应来进行自我筛选和自我净化, 只有数量很少的新语词能够穿越这种“时间筛子”, 成为上一历史时段的“舌尖遗产”。

依次填入划横线部分最恰当的一项是 ()。

- A. 更新 清洁 B. 完善 舍弃
C. 过滤 遗忘 D. 修正 扫除

4. 在各种兼并方式中, 如果两个公司实力悬殊, 则多半是强势的一方直接收购弱势的一方。出钱多、实力雄厚的一方, 最终还是会要求自己说了算, 而实力较弱的一方虽然在名分上得到了“平等”二字, 但大多也都知道自己需要_____。

填入划横线部分最恰当的一项是 ()。

- A. 循规蹈矩 B. 安分守己 C. 亦步亦趋 D. 安步当车

5. 有人用“天价”片酬导致行业畸形来批判“天价”片酬, 然而实际上“天价”片酬与行业畸形是恶性循环, 互为因果的关系, 因为现有的行业的畸形, 才导致对明星效应的依赖, 一线明星_____, 片酬自然_____。

依次填入划横线部分最恰当的一项是 ()。

- A. 席珍待聘 坐地起价 B. 囤积居奇 随行就市
C. 奇货可居 水涨船高 D. 待价而沽 居高不下

6. 政府部门应该在社区治理中鼓励社区自治。假如政府部门在这过程中_____, 没有处理好社区自治和政府管理的关系, 那么, 最终所作出的决策就很可能引发社会矛盾。

- B. 在校运动会开幕式上，校长和分管体育的教导主任以及其他学校的领导登上主席台
- C. 河北省相邦剑，一面刻有铭文两行十七字，另一面刻一行六个字，字小如米，笔细如发
- D. 世界抗击艾滋病会议的代表中有中国中央电视台台长和东方电视台台长，香港凤凰卫视总裁也应邀出席了会议

14. 成功者往往把注意力放在如何提高自己的水平上，而不是考虑如何击败对手。

下列表述中，与原句意义相同的是（ ）。

- A. 成功者不把击败对手作为自己的目标
- B. 成功者通常只关心自己，而不关心别人
- C. 成功者注重不断地超越自己而不是超越他人
- D. 把注意力完全放在自己身上的人往往可以取得成功

15. 下列各句中，标点符号使用正确的一项是（ ）。

- A. “平时给你孩子吃你自己卖的这些吗？”当记者提出疑问时，商贩很快回答：“不吃，我从不给他吃。”
- B. 老王说：“没有什么技巧，关键在于多练。俗话说‘熟能生巧’嘛。”
- C. 根据《上海市未成年人保护条例》的规定，携带两、三岁的孩子乘坐家庭乘用车，应当配备并正确使用儿童安全座椅。

D. 大学赋予你足够的时间和实践，让你思考怎样才是有意义的人生；大学赋予你绚丽多彩的青春，让你成为一个有温度懂情趣的人；大学赋予你释放自己能力的机会，让你去检验大胆、新奇甚至疯狂的想法，这便是读大学的意义。

16. 我们的身体里有着以各种形式存在的能量，科学家们也一直在思考用人体给可穿戴设备供电的方法，中美研究团队 2013 年发明了依靠运动动能发电的压电纤维，来自澳大利亚和中国的研究人员在 2015 年首次成功开发了能将热能转化为电能的新型面料。乍看起来，眼泪似乎是比汗水更不靠谱的燃料来源，但在 2015 年 7 月，犹他州研究人员开发出了首款集成 EFC 隐形眼镜，能把人的眼泪转化为电力。虽然生物动力燃料电池是目前受到追捧的新型技术，但目前发明出的设备能够产生的电力还比较有限。此外，像血液供电这类获取体内化学能量的方式，带有侵入性，也存在着许多风险。未来的生物供电究竟还有哪些可能性？或许我们可以_____。

根据以上文字，填入划横线部分最恰当的是（ ）。

- A. 冷眼旁观 B. 暂且搁置 C. 拭目以待 D. 拒之门外

17. 我国科普工作虽然取得了很大进步，可是科普读物，无论数量还是质量，与发达国家还有着数量级的差距。在一些社会关注的重大问题上，科学家更应该主动站出来讲话。要把科学语言转化为老百姓听得懂的语言，实事求是讲真话。如果连科学家都不愿意、不敢讲话，任由真相缺失、谣言扩散，那么势必会引起公众的恐慌和困惑。

上述文字意在强调（ ）。

- A. 科普工作应该通俗化，接地气 B. 我国科普读物数量少，质量差
- C. 科学家负有做科普工作的义务 D. 科学家应坚持求真务实的原则

18. 随着东部沿海地区发展转型、产业转移，中西部地区经济崛起，重庆、湖南、四川等传统劳动力输出地，正迎来返乡创业的热潮。这些创业者中，既有返乡的农民工、企业管理者，也有大学生、公

司职员等，他们怀着浓浓的乡情，抓住家乡发展的大好机遇，带着资金、技术以及先进的管理理念回乡打拼。在中西部的一些地方，返乡创业的企业数量和创造的产值，已占据县域经济的半壁江山。目前，这一趋势方兴未艾，它给中西部地区的城镇化、工业化带来了强劲的动力，也改变着中国的经济版图。

对这段文字理解不准确的是（ ）。

- A. 中西部返乡创业主要受益于东部的发展转型
- B. 返乡创业热潮主要出现在传统劳动力输出地
- C. 返乡创业成为推动中西部县域经济发展的动力
- D. 返乡创业已成为撬动中西部地区转型的新杠杆

19. 在中国古代，商人的社会地位始终很低，唐代就严令禁止商人做官，甚至规定从商者不可与朝贤君子比肩而立、同坐而食。到了明代，朝廷虽然认同商贾“以通有无”是社会所需，但早期在商人衣冠上依然有严苛的规定。明中后期商品经济的发展促使从商者日众，这些圈住商贾的条条框框也逐渐失去往昔的效力。尽管如此，商人在日常用度上的自由也还是有限的，“吃”成了扬州富商可供选择的为数不多的斗富机会。于是，扬州富商一掷千金，在“吃”上无所不用其极。

这段文字接下来最可能说的是（ ）。

- A. 扬州饮食发展的不同阶段
- B. 扬州人爱吃重吃的深层原因
- C. 商人社会地位的历史变迁
- D. 扬州富商奢侈的“吃文化”

20. 人们通常把巴比伦帝国的崩溃归结为同波斯人作战的结果，而不在意这样一个事实：当年亚伯拉罕繁荣兴旺的大港乌尔，现在竟然坐落在离海岸一百五十英里的荒凉沙漠内。把流沙赶上海岸的山羊和斧头，远比征服者的马匹和标枪更具毁灭性。

大港乌尔的巨大变化可以用汉语的一个成语来描述，这个成语是（ ）。

- A. 天壤之别
- B. 时过境迁
- C. 沧海桑田
- D. 地老天荒

21. 半夜开车的时候遇到红灯，即使无人无车也不能通过，这是浪费资源，这是智能化带来的智能交通的红绿灯控制车流，而物联网将其变革成了车流量控制红绿灯，并已有现实的应用。通过智能安防的摄像机系统抓捕逃犯，这是智能化做到的事后追踪，而物联网却能做到事先预警，防范于未然。

这段文字意在说明（ ）。

- A. 智能化与物联网的区别
- B. 物联网上的信息可预测
- C. 智能化和物联网的功能
- D. 物联网是超越智能化的

22. 传续文明，首先是要保护先人留下的文化遗产，比如要保存好图书文献的各种版本。_____。犹太文明的传承，就没有完全依赖物质遗产。传续文明，最核心的乃是传续先人的精神。

填入划横线部分最恰当的一项是（ ）。

- A. 但这并不是没有意外的
- B. 但这只是事情的一方面
- C. 但这不是完全可靠的
- D. 但这并不是最重要的

23. 明清鼎革之际，商品经济发展迅速，商贸流通日益增强，徽州商帮成为中国商界翘楚，积累了丰厚的财资。商人们遵循传统，发家后便返乡大兴土木，广修宗祠，遍设书院。同时，徽商“贾而好儒”的文化品质使他们追求生活的艺术品位，强调建筑的布局、结构、装饰要展现主人的涵养。此外，这一

时期徽州本土的新安画派、徽州版画也颇为发达，对砖雕艺术具有深远影响。

上述材料旨在说明（ ）。

- A. 徽州商帮的理家方略
- B. 徽州商人的文化品质
- C. 徽商经营与绘画关系
- D. 徽州建筑发达的原因

24. 单看日渐升温的机器换人热潮，在目前劳动力供给偏紧的背景中，它对就业还未见明显的负面影响。而且，科技革命带来的产业深化、分工细化，还可能衍生出更多的就业机会。但是，那种决然否认机器换人和充分就业并不矛盾的说法未免过于乐观。在当下，从事重复性、常规性、高危性工作的员工，最有可能在人机竞争中先被淘汰出局。面对科技的更新，我们在结构改革中还不能轻易放弃有利于增加就业含量的传统制造业，还需要加快发展有利于吸纳就业人口的现代服务业。

这段文字意在强调（ ）。

- A. 发展传统制造业和现代服务业有利于就业
- B. 应该对日渐升温的机器换人热潮进行理性评估
- C. 科技更新可以为缓解当前的就业压力提供新思路
- D. 结构改革中应注意采取措施缓解机器对就业的冲击

25. 一段中国的箏箫古曲，多有雨声中的幽远；一幅中国的山水古画，多有雨声中的迷蒙。一大堆中国古代的哲学，其所谓“自足”“求诸己”“尽其在我”一类的命题，作为几千年文明的意旨内核和情感基点，当然是事出有因。_____，它们也许都来自作者们在雨声中的独处。

填入划横线部分最恰当的一项是（ ）。

- A. 雨声会让人心中安宁静谧
- B. 这是中国文化独有的意趣
- C. 所谓情由境生和感由事发
- D. 就好像“小楼一夜听春雨”

26. 随着科学技术的进步，电脑的问世让人类制造这样的机器“耳朵”成为可能。20世纪60年代，科学家开始在实验室里研究声控技术的核心——语言识别技术。20世纪70年代末，微电脑的出现更是让声控技术实现了飞跃式发展——微电脑处理与存贮信息的神奇功能，以及它低廉的价格、小巧的体积，为声控技术走出实验室创造了必要条件，人们由此开启了实际应用声控技术的新时期。

这段文字主要介绍了（ ）。

- A. 声控技术的发展
- B. 语言识别技术的诞生
- C. 应用声控技术时代的来临
- D. 作为声控技术基础的电脑技术的发展

27. 民国初年的文学革命，其实也就是一场类似库恩所说科学革命的例子。革命者认为旧有典范已经死亡僵化了，于是进行革命。革命之后，新典范出现，整个文学和文学研究遂导向一套新的信念，研讨的问题和答案的标准也改变了：采用西方的思考方式、观念系统、术语、概念来讨论中国文学。碰到这个新“典范”所无法丈量的地方，便诟病中国文学及文学评论定义不精确、系统不明晰、结构不严谨、思想不深刻等等。

这段文字意在说明（ ）。

- A. 西方文学批评理论对民国初年的文学革命产生了深刻影响
- B. 民国初年的文学革命与库恩所说的科学革命有相通之处
- C. 民国初年的文学革命用新典范评判中国文学不尽合理

D. 民国初年的中国文学作品带有革命性的特点

28. 众所周知，感冒发烧那是因为身体发了炎，产生了炎症。不仅如此，其实在人类的大部分严重疾病的发病过程中，例如肝硬化、糖尿病，甚至包括癌症，炎症都在其中扮演了至关重要的角色。而间充质干细胞就可以根据炎症的强弱大小，或者炎症发生的地点，来变换自己的性质，发挥自己不同的功能：它可以消炎，也可以促炎，它可以招募其他“伙伴”一起促进组织生长，也可以“学雷锋”做好事进行组织修复。

这段文字意在说明（ ）。

- A. 疾病炎症的危害
B. 疾病炎症的具体表现
C. 间充质干细胞的多种好处
D. 间充质干细胞变化多端的能力

29. 有些被宣称为“清热下火”的凉茶，其实连茶的远亲都算不上，它们不是普通的“茶叶”，只是含些中草药提取液。从现代医学角度看，人体的许多症状跟中医所说的“热”“火”类似，而这些症状，有许多是会自然减退的，不管喝凉茶还是白水，一段时间后都会减轻。另一方面，在理论上完全可能有中草药的某些成分正好对某些症状有效，所以不少人喝了凉茶，觉得清了“热”、下了“火”，这并不奇怪。但是，这样一种“有效”却符合大众的思维方式，但凡质疑这些功效的言论都会招来大量消费者“现身说法”的攻击，也就成了顺理成章之事。

这段文字意在说明（ ）。

- A. 乱喝凉茶可能会对健康不利
B. 很多消费者并不了解凉茶的实质
C. 某些凉茶“清热下火”的功能值得怀疑
D. 凉茶中真正发挥功效的是中草药成分

30. ①该卷长 525 厘米，宽 25.5 厘米，是北宋晚期张择端所画

②当时京师风俗，清明节日要出城上坟祭扫，同时也是群众性郊游的日子

③张择端，字正道，东武（今山东诸城）人，徽宗年间游学于京师

④这时四郊景色正好，东郊沿汴河一带游人尤其多，“上河”成为一时风尚

⑤《清明上河图》现藏于北京故宫博物院，全卷描绘清明节前往汴河一带游览所见到的情景，十分细致而生动

⑥所谓“上河”，就是前往汴河游览的意思

将以上 6 个句子重新排列，语序正确的是（ ）。

- A. ③⑤④⑥②①
B. ⑤①③②④⑥
C. ③②⑤⑥①④
D. ⑤②⑥④①③

第二部分 常识判断

（共 20 题，参考时限 15 分钟）

根据题意，从四个选项中选出最符合题意的一项。

31. 地球上生物的种类极其丰富，从表面上看，不同的生物之间似乎并没有相同之处，但其实所有

的生物都具有一些共同特征。以下不属于生物共同特征的是（ ）。

- A. 由单细胞构成
- B. 需要能量才能生存
- C. 具有生命周期
- D. 新陈代谢

32. 下列关于避雷针的说法，错误的是（ ）。

- A. 南北朝时就已出现与避雷针工作原理相似的“避雷室”
- B. 避雷针和它要保护的建筑是由绝缘物质隔开的
- C. 接闪器可用铝合金、镀锌钢、不锈钢等各种材料制成
- D. 我国现在已经放弃了“避雷针”这一叫法，而代之以“接闪杆”

33. 下列古代汲水灌溉工具与应用原理对应错误的是（ ）。

- A. 桔槔——杠杆原理
- B. 辘轳——轮轴原理
- C. 翻车——对称守恒原理
- D. 筒车——叶轮原理

34. 下列有关生活知识的表述中，正确的是（ ）。

- A. 炒菜时，油锅着火应立即泼水救火
- B. 泡沫灭火器灭火时，能喷射出大量一氧化碳及泡沫
- C. 运行中的电梯进水时，应将电梯开到底层，并通知维修人员
- D. 电梯下降失去控制时，乘客应两腿微弯，整个背部和头部紧贴电梯壁，呈一直线，以减小电梯坠落受到的冲击

35. 下列中国历史上的变法与其内容对应不正确的是（ ）。

- A. 商鞅变法——实行郡县制
- B. 王安石变法——颁行保甲法
- C. 张居正变法——推行青苗法
- D. 戊戌变法——开办京师大学堂

36. 严重缺氧的病人输氧时，要在纯氧中混入 5% 的 CO_2 （二氧化碳），目的是（ ）。

- A. 用 CO_2 维持呼吸中枢的兴奋
- B. 节约氧气
- C. 让人体吸收 CO_2
- D. 用 CO_2 增加氧气罐压力

37. 下列与电有关的说法，正确的是（ ）。

- A. 铜的导电性比铁弱
- B. 电水壶属于纯电阻用电器
- C. 电风扇是将电能全部转化为热能
- D. 白炽灯的发光原理与 LED 灯相同

38. 下列关于云的说法中，错误的是（ ）。

- A. 冷却云中强烈的气旋扰动使飞机发生波动
- B. 积雨云中的雷电会给飞机带来极大的危险
- C. 贝母云常见于高纬度地区，有珍珠般光泽
- D. 夜光云出现在黄昏后的夜空，有银色光泽

39. 旅行者 2 号探测器于 1977 年 8 月 20 日在肯尼迪航天中心成功发射升空，近探过太阳系的四颗行星后，飞向了外太空。这四颗行星依次为（ ）。

- A. 水星、金星、火星、天王星
- B. 水星、金星、木星、天王星
- C. 木星、土星、天王星、海王星
- D. 木星、火星、天王星、海王星

40. 下列关于管理学知识的表述中，错误的是（ ）。

- A. 在行政组织结构中管理幅度和管理层次成正比例关系
- B. 审计监督是行政监督中内部监督的一种方式
- C. 时间性原则是公共危机管理的第一原则
- D. 公共危机管理的决策是一种非程序性决策
41. 根据我国刑事诉讼法的规定，下列证据应当予以直接排除的是（ ）。
- A. 采用刑讯逼供的方法收集的犯罪嫌疑人的供述
- B. 收集犯罪嫌疑人贪污所得现金不符合法定程序的
- C. 收集合同诈骗罪涉案支票不符合法定程序，可能严重影响司法公正的
- D. 收集盗窃自行车不符合法定程序，不会影响司法公正，但无法作出合理解释的
42. 在当下社会，纸币已经出现电子形态，比如越来越多的人使用手机进行支付，整个支付过程完全见不到纸币的踪影。这说明手机支付可以代替货币的哪项职能？（ ）
- A. 世界货币 B. 储藏手段 C. 价值尺度 D. 支付手段
43. 下列关于二十国集团（G20）的说法中，不正确的是（ ）。
- A. 2016 年 G20 峰会在我国浙江省杭州市举行
- B. 2016 年 G20 峰会的主题是“构建创新、活力、联动、包容的世界经济”
- C. G20 是亚太地区层级最高、领域最广、最具影响力的经济合作机制
- D. 二十国集团领导人第一次峰会于 2008 年举行
44. 甲将自有房屋出售给乙，乙将双方约定的房款支付给甲，并将房子交给儿子丙使用。后由于价格变动，甲又将房子出售给丁，并办理了房屋过户手续。此时，该房屋的所有权归属（ ）。
- A. 甲 B. 乙 C. 丙 D. 丁
45. 燕京八绝是指具有“京作”特色的八种工艺门类，它们充分汲取了各地民间工艺的精华，又承袭了宫廷文化的精髓，是北京的艺术典范。下列关于燕京八绝的说法中，正确的是（ ）。
- A. 内画壶属于燕京八绝之一
- B. 八大工艺门类均兴起于清代，并形成了宫廷特色
- C. 燕京八绝都属于非物质文化遗产
- D. 这八类工艺品均以皇家生活场景为创作内容
46. 下列选项中错误的是（ ）。
- A. 甲就其被处行政拘留处罚起诉，由其所在地或被告所在地人民法院管辖
- B. 若利害关系人就行政许可要求组织听证，那么听证费用应由申请人承担
- C. 某派出所对乙作出罚款的处罚决定，乙遂向县人民政府申请行政复议
- D. 丙工厂将排污口建在行洪道上并违规排放，市环保局与市水利局对该厂分别作出处罚
47. 当前，不带现金出门正成为一种时尚。从商场到便利店，从水果摊到煎饼铺，从医院到出租车……人们掏出手机，随时可以扫二维码支付。关于这一现象，下列说法正确的是（ ）。
- A. 货币不再充当商品交易的媒介 B. 货币不再承担支付手段的职能
- C. 移动支付减少了社会的现金流通量 D. 移动支付不需要依托银行系统完成
48. “慧眼”全称硬 X 射线调制望远镜，是我国首颗大型 X 射线天文卫星，科学家们将其用来观测

宇宙中最神秘的天体，它们是（ ）。

- A. 白矮星和黑洞
B. 暗物质和中子星
C. 白矮星和暗物质
D. 黑洞和中子星

49. 下列可以作为我国古代天子祭祀礼器的有（ ）。

- ①鼎 ②爵 ③簋 ④璧 ⑤璜 ⑥璋
A. ②⑤ B. ③⑥ C. ①④ D. ①⑤

50. 地震、台风等自然灾害往往造成巨大的财产损失和人员伤亡。下列关于自然灾害的说法正确的是（ ）。

- A. 泥石流具有突然性、流速快和破坏力强等特点，一般发生在具有特殊地形地貌的地区
B. 台风是发生在太平洋西部海洋和南海海上的热带气旋，台风眼内的风力是测定台风等级的依据
C. 火山爆发是地球内能释放的一种形式，地球上各地的火山分布在陆地上，分为死火山、活火山和休眠火山
D. 地震多发生于地球板块的交界或地壳裂隙地带，地震的烈度是地面受到的影响和破坏程度，震源越深，烈度越大

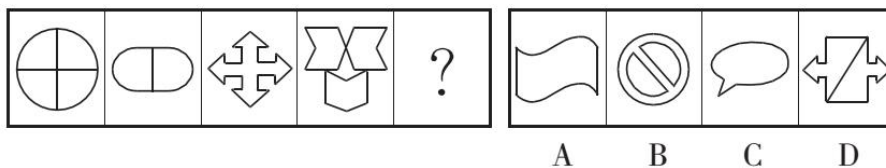
第三部分 判断推理

(共 25 题，参考时限 25 分钟)

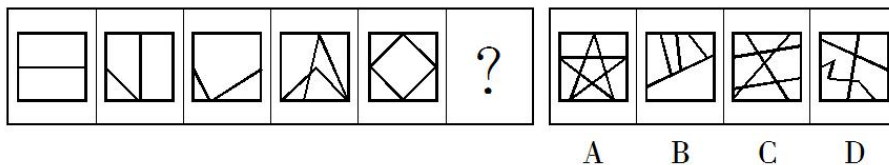
本部分包含四种类型的试题：

一、图形推理：共 5 题。请按每道题的答案要求作答。

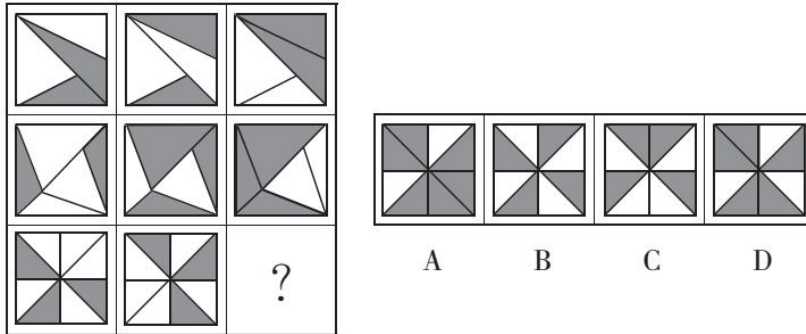
51. 从所给的四个选项中，选出一个填入问号处，使之呈现一定的规律性。



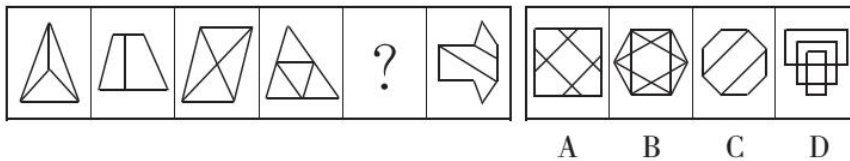
52. 从所给的四个选项中，选出一个填入问号处，使之呈现一定的规律性。



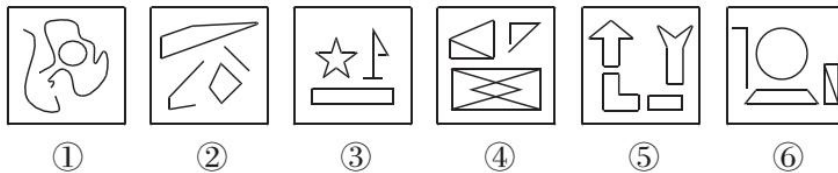
53. 从所给的四个选项中，选出一个填入问号处，使之呈现一定的规律性。



54. 从所给的四个选项中，选出一个填入问号处，使之呈现一定的规律性。



55. 把下面的六个图形分成两类，使每一类图形都有各自的共同特征或规律，分类正确的一项是（ ）。



- A. ①②③, ④⑤⑥
- B. ①③⑤, ②④⑥
- C. ①③④, ②⑤⑥
- D. ①⑤⑥, ②③④

二、定义判断：共 5 题。每道题先给出一个概念的定义，然后分别列出四种情况，要求你严格依据定义，从中选出一个最符合或最不符合该定义的答案。注意：假设这个定义是正确的，不容置疑的。

56. 不征税收入是指专门从事特定目的，从性质和根源上不属于营利性活动带来的经济利益，不负有纳税义务并且不作为应纳税所得额组成部分的收入，比如财政拨款、行政事业性收费等；免税收入是纳税人应税收入的重要组成部分，只是国家为了实现某些经济和社会目标，在特定时期或对特定项目取得的经济利益给予的税收优惠照顾，而在一定时期又有可能恢复征税的收入。

根据上述定义，下列说法错误的是（ ）。

- A. 为鼓励高新技术企业自主创新，政府规定，在近两年内对这类企业研发产品的销售收入暂不收税，因此企业在研发产品上的销售收入属于免税收入
- B. 某农产品企业获得了当地政府对农业加工产品的专项财政补贴，该补贴属于不征税收入
- C. 国家规定，企业技术转让所得年净收入在30万元以下的，暂免征收所得税，因此这部分所得属于免税收入
- D. 为鼓励纳税人积极购买国债，国家规定国债所得利息收入暂不计入应纳税所得额，不征收企业所得税，因此国债利息收入属于不征税收入

57. 加害给付，是指因债务人的履行行为有瑕疵，使债权人的其他利益受到损害。在加害给付中，债权人受到的损害，可能是财产利益，也可能是人身利益。

根据以上定义，下列属于加害给付的是（ ）。

- A. 商场售卖的家电质量不合格，致使消费者不能正常使用
- B. 租房客在租期届满时未及时将房屋交还房东，致使房东利益受损
- C. 甲将患有禽流感的鸡苗卖给乙，致使乙农场饲养的鸡鸭大量死亡
- D. 看病时医生业务不熟练，导致病人的病情未得到缓解

58. 健康教育是为促进人们自发地、自觉地接受并采取有益于健康的行为与生活方式，根除或者减少对健康有影响的危险因素，预防疾病并达到促进身心健康和提高生活质量的目标而开展的有组织、有计划的系统的社会教育活动。

根据上述定义，下列属于健康教育的是（ ）。

- A. 某公司在乡下举办健康知识讲座，并以此为机会向老人们推销保健品
- B. 某高校开设的一门“心理健康”选修课非常受同学们欢迎，甚至附近的市民都来蹭课
- C. 周日某医院组织医务人员在小区广场举行义诊活动，免费为居民提供测血压、量体温以及医疗咨询等服务
- D. 为防范入秋以来老年人心脑血管疾病高发的现象，社区每年9月份都会聘请知名专家针对老年居民举行系列讲座，普及相关医疗知识

59. 人力资源管理是指根据企业发展战略的要求，有计划地对人力资源进行合理配置，通过对企业中员工的招聘、培训、使用、考核、激励、调整等一系列过程，调动员工的积极性，发挥员工的潜能，为企业创造价值，给企业带来效益，确保企业战略目标的实现，是企业的一系列人力资源政策以及相应的管理活动。

根据上述定义，以下不属于人力资源管理活动的是（ ）。

- A. 甲公司劳动人事部门向单位全体员工发出调查问卷，为制定本公司规章制度做准备
- B. 乙公司劳动人事部门制定招聘计划，拟出招聘条件，派出员工前往某大学招聘大学毕业生
- C. 丙公司劳动人事部门组织新进员工进行岗前技术培训
- D. 丁公司劳动人事部门组织全体员工举行元旦联欢活动

60. 语言智能：指利用计算机程序实现人和机器之间的语言交流，或让机器自主完成与语言有关的工作。

下列属于语言智能的是（ ）。

- A. 人工智能“阿尔法狗”在历时数月的人机大战中以绝对优势战胜多名世界级的围棋高手
- B. 为拓展国外市场，某公司新产品设置了语言切换按钮。借助这些按钮，用户可以实现多语种操作系统的切换
- C. 在某诗歌比赛中，根据评委说出的关键词，机器人“小微”当场写出了几首辞藻华美、意境清新的作品
- D. 高铁、动车、地铁上都配备了可以自动播报沿途站名、当前时速、实时气温的汉英双语语音系统

三、类比推理：共 10 题。每道题给出一组相关的词，然后要求你在备选答案中找出一组与之在逻辑关系上最为贴近或相似的词。

61. 报名：培训：结业

- A. 高考：招生：毕业
B. 设计：产品：使用
C. 驾驶：公路：旅行
D. 挂号：看病：痊愈

62. 净水：过滤

- A. 名次：竞赛
B. 房屋：装修
C. 苗条：节食
D. 环境：绿化

63. 上衣：领袖

- A. 兄弟：手足
B. 时间：岁月
C. 身体：耳目
D. 动物：鹰犬

64. U 盘：光盘

- A. 楼梯：电梯
B. 插头：插座
C. 国画：毛笔
D. 水杯：杯盖

65. 作品：文学作品：摄影作品

- A. 人身权：姓名权：肖像权
B. 糖果：棒棒糖：水果糖
C. 科学：自然科学：经济学
D. 面食：面条：重庆小面

66. 分析 对于 () 相当于 消除 对于 ()

- A. 阐述 革除
B. 差距 贫富
C. 解决 创新
D. 问题 弊端

67. 处之泰然：镇定

- A. 大义凛然：壮烈
B. 虚怀若谷：谦虚
C. 杳如黄鹤：消失
D. 似水流年：时间

68. 口试：笔试：招聘

- A. 摄影：购物：旅游
B. 招标：中标：建设
C. 批发：零售：销售
D. 出口：内销：商品

69. 井底蛙：三脚猫：智慧

- A. 笑面虎：变色龙：真诚
B. 千里马：孺子牛：可靠
C. 替罪羊：铁公鸡：坚强
D. 地头蛇：纸老虎：勇敢

70. 竞争 对于 () 相当于 关系 对于 ()

- A. 竞赛 亲密
B. 残酷 关联
C. 比赛 疏远
D. 激烈 融洽

四、演绎（逻辑）推理：共5题。每题给出一段陈述，这段陈述被假设是正确的，不容置疑的。要你根据这段陈述，选择一个答案。注意：正确的答案应与所给的陈述相符合，不需要任何附加说明即可从陈述中直接推出。

71. 四位球迷在某球赛的晋级赛开始之前对几个队伍的赛况进行预测，他们比较关注其中的两支球队，分别作了如下预测：

方某说：如果甲队不能晋级，那么乙队也不能晋级。

白某说：不管甲队能不能晋级，乙队都不能晋级。

夏某说：乙队能晋级，但甲队不能晋级。

邓某说：我看这几支球队都不能晋级。

比赛结果证明，四位球迷中只有一位的预测是正确的。

根据上述情况，以下哪项一定为真？（ ）

- A. 白某预测是正确的
- B. 邓某预测是正确的
- C. 如果甲队能够晋级，那么方某的预测是正确的
- D. 如果甲队不能晋级，那么方某的预测是正确的

72. 某人拟在1~5号5个地块上种植玉米、高粱、红薯、大豆和花生5种作物，每个地块仅种植一种作物，每种作物仅种植在一个地块。已知：

(1) 如果3号地块种植大豆、高粱或花生，则1号地块种植玉米；

(2) 如果4号地块种植高粱或花生，则2号或5号地块种植红薯；

(3) 1号地块种植红薯。

根据以上信息，可以得出以下哪项？（ ）

- A. 2号地块种植高粱
- B. 3号地块种植花生
- C. 4号地块种植大豆
- D. 5号地块种植玉米

73. 对所有农产品都进行了检测，没有发现有农药残留超标的产品。

如果上述断定为假，那么下列哪项也一定为真？（ ）

- I. 有的农产品尚未经过检测，但发现了有农药残留超标的产品
- II. 或者有的农产品尚未经过检测，或者发现了有农药残留超标的产品
- III. 如果对所有农产品进行了检测，则可发现农药残留超标的产品

- A. 仅仅 I
- B. 仅仅 II
- C. 仅仅 III
- D. 仅仅 II 和 III

74. 在一项实验中，研究者让大学生回忆他们在高中时期的成绩，告知他们研究者将会从高中获取其真实成绩，所以撒谎没有任何意义。结果显示：参与者回忆起的成绩有五分之一都和实际不符，而不同等级的成绩，被误记的概率也是不同的。分数越高越不容易记错：得了A的时候总是能准确地被回忆起来，但得了F的时候却难以被想起。

根据以上信息，可以推出的是（ ）。

- A. 错误的记忆可以保护我们对公平正义的信念
- B. 错误的记忆让我们自我感觉良好，利于健康
- C. 人们记忆中的成绩可能比真实的更优秀
- D. 一般来说，人们最擅长的就是对细节的遗忘

75. 近日，曼彻斯特大学的科学家宣布，他们已经可以通过精确控制石墨烯膜中的孔径，从咸水中过滤出普通的盐，从而保证饮用的安全性。据此，有科学家宣称这种技术可以让海水变成饮用水，从而彻底改变世界各地的缺水问题。

以下哪项如果为真，最能支持上述论证？（ ）

- A. 从前石墨烯氧化物膜已显示出了进行气体分离的强大潜力
- B. 随着气候变化的影响，许多国家的城市供水出现短缺问题
- C. 这一技术将为制盐业提高脱盐技术的效率开辟新的可能性
- D. 通过改变滤孔大小，可以实现石墨烯膜的大规模工业生产

第四部分 数量关系

（共 15 题，参考时限 15 分钟）

本部分包括两种类型的试题：

一、数字推理：共 8 题。给你一个数列，但其中缺少一项，要求你仔细观察数列的排列规律，然后从四个选项中选出最符合规律的一项来填补空缺项。

76. 1, 0, 4, 5, (), 14

- A. 7
- B. 9
- C. 10
- D. 11

77. -1, 3, -3, -3, -9, ()

- A. -9
- B. -4
- C. -14
- D. -45

78. 2, 3, 4, 15, 56, ()

- A. 285
- B. 235
- C. 245
- D. 225

79. 11, 12, 26, 14, (), 16

- A. 15
- B. 20
- C. 27
- D. 37

80. $\frac{1}{2}$, $\frac{5}{7}$, $\frac{4}{5}$, $\frac{11}{13}$, $\frac{7}{8}$, ()

- A. $\frac{15}{17}$
- B. $\frac{16}{17}$
- C. $\frac{17}{19}$
- D. $\frac{18}{19}$

81. 10, 15, 25, (), 55, 65

- A. 28
- B. 30
- C. 35
- D. 45

82. 10, 30, 8, (), 6, 42, 4, 36

- A. 40
- B. 38
- C. 36
- D. 32

83. 3.2, 8.6, 15.12, 24.20, 35.30, ()

- A. 42.42 B. 48.42 C. 42.56 D. 48.56

二、数学运算：共7题。每道试题呈现一道算术式，或表述数字关系的一段文字，要求你迅速、准确地计算或论证出答案。

84. 某检修工作由李和王二人负责，两人如一同工作4天，剩下工作量李需要6天，或王需要3天完成。现李和王共同工作了5天，则剩下的工作李单独检修还需几天完成？()

- A. 2天 B. 3天 C. 4天 D. 5天

85. 四个装药的瓶子都贴了标签，其中三个贴错了，那么，共有几种可能贴法？()

- A. 6种 B. 8种 C. 12种 D. 16种

86. 某公司研发出了一款新产品，当每件新产品的售价为3000元时，恰好能售出15万件；新产品的售价每增加200元时，就要少售出1万件。如果该公司仅售出12万件新产品，那么该公司新产品的销售总额为()。

- A. 4.32亿元 B. 4.46亿元 C. 4.64亿元 D. 4.72亿元

87. 甲、乙两条生产线同时接到羽毛球、网球两种球拍的生产任务。已知甲要生产的球拍总数和乙相同，甲的网球拍生产任务是乙的 $\frac{1}{3}$ ，乙的羽毛球拍生产任务是甲的 $\frac{1}{4}$ ，如甲、乙工作效率相同，且单个羽毛球拍生产时间是网球拍的一半，问甲、乙完成任务用时之比为()。

- A. 7:10 B. 10:7 C. 13:19 D. 19:13

88. 某人和同事去吃盖浇饭，一部分人点了每份25元的大份盖浇饭，其他人点了每份18元的小份盖浇饭，一共花了183元。若大份盖浇饭打8折的话，他们可以只花168元。请问他们一共多少人去吃盖浇饭？()

- A. 8人 B. 9人 C. 10人 D. 11人

89. 两个人带着宠物狗玩游戏，两人相距200米，并以相同速度1米/秒相向而行，与此同时，宠物狗以3米/秒的速度，在两人之间折返跑，当两人相距60米时，宠物狗总共跑的距离为()。

- A. 210米 B. 240米 C. 270米 D. 300米

90. 一个位于O点的雷达探测半径为25千米。某日该雷达探测到一辆车沿直线驶过探测区，行驶过程中途经距离雷达20千米外的P点。如该车在雷达探测区内行驶的距离为X千米，问X的最大值和最小值相差多少千米？()

- A. 15千米 B. 16千米 C. 20千米 D. 25千米

第五部分 资料分析

(共 10 题, 参考时限 10 分钟)

根据资料提供的信息进行分析、比较、计算和判断处理。

一、根据下列资料, 回答 91~95 题。

2017 年 7~12 月某公司 A 产品销售数据统计表

月 份	销售数量 (件)	同比 (%)	销售金额 (元)	同比 (%)
7 月	72	29.5	2594	40.1
8 月	56	34.1	2005	19.5
9 月	98	-21.2	3421	26.9
10 月	101	12.8	3560	22.4
11 月	98	5.0	3269	7.2
12 月	91	1.8	2935	-3.8

91. 2017 年下半年, 该公司 A 产品月均销售金额为 () 元。
 A. 2713 B. 2964 C. 2717 D. 2968
92. 2016 年 11 月, 该公司 A 产品的平均销售价格约为 ()。
 A. 25 元/件 B. 30 元/件 C. 33 元/件 D. 47 元/件
93. 2017 年下半年, 该公司 A 产品销售金额同比变化率最小的月份是 ()。
 A. 12 月 B. 11 月 C. 10 月 D. 9 月
94. 2017 年下半年, 该公司 A 产品销售数量较去年同期增长不到 15% 的月份有 ()。
 A. 2 个 B. 3 个 C. 4 个 D. 5 个
95. 2017 年 10 月, 该公司 A 产品销售金额较同年 7 月多 ()。
 A. 25.1% B. 29.4% C. 32.8% D. 37.2%

二、根据下列资料, 回答 96~100 题。

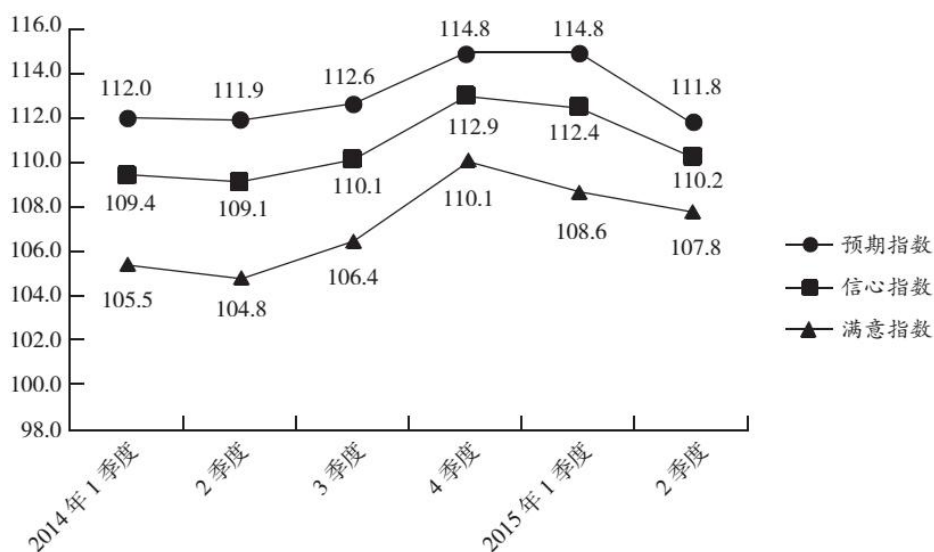
2015 年 2 季度, J 省消费者信心指数 (CCI) 为 101.1, 环比、同比分别下降 4.6、10.7 个百分点。分城乡看, 城镇和农村消费者信心指数分别为 101.6 和 100.1, 环比分别下降 5.2、3.8 个百分点。

从体现消费者对当前形势的满意程度看, 2015 年 2 季度, J 省消费者满意指数 (ICC) 为 96.9, 从满意指数的构成看, 消费者对当前就业满意指数为 101.2, 其中城乡指数分别为 99.3、104.2, 环比分别下降 6.1、3.3 个百分点。从对当前家庭收入的满意程度看, 满意指数为 99.5, 其中城乡家庭收入满意指数分别为 100.4、98.1, 环比分别下降 9.6、3.1 个百分点。

从反映消费者对未来乐观程度的预期指数看, 2015 年 2 季度, J 省消费者预期指数 (ICS) 为 103.8, 在持续两个季度小幅回升后, 本季度有所回落, 环比、同比分别下降 4.1、12.0 个百分点。

2015 年 2 季度, Z 省城乡消费者信心指数均呈下行态势。其中, 城镇消费者信心指数为 111.1, 较 1 季度下降 1.4 个百分点; 农村消费者信心指数为 108.7, 较 1 季度下降 3.4 个百分点。

2014年1季度~2015年2季度Z省消费者信心指数、满意指数、预期指数



96. 2015年1季度，J省消费者满意指数构成中，数值最低的是（ ）。
- A. 城镇就业满意指数 B. 农村就业满意指数
 C. 城镇家庭收入满意指数 D. 农村家庭收入满意指数
97. Z省2015年1季度农村消费者信心指数是（ ）。
- A. 108.7 B. 112.1 C. 112.5 D. 103.9
98. 设Z省2015年1、2季度消费者信心指数为 Z_1 、 Z_2 ，J省同期同一指标为 J_1 、 J_2 ，则（ ）。
- A. $Z_1 > J_1 > Z_2 > J_2$ B. $Z_1 > Z_2 > J_1 > J_2$
 C. $J_1 > J_2 > Z_2 > Z_1$ D. $Z_1 > J_2 > Z_2 > J_1$
99. Z省消费者满意指数下降最快的时间段是（ ）。
- A. 2014年2季度 B. 2014年3季度
 C. 2015年1季度 D. 2015年2季度
100. 根据资料，下列表述正确的是（ ）。
- A. 2015年2季度，J省、Z省城镇消费者信心指数环比下降的数值均大于农村消费者信心指数
 B. 2014年3季度至2015年2季度，J省、Z省消费者信心指数变化趋势相同
 C. 2015年2季度，J省、Z省消费者预期指数值相差10个百分点以上
 D. 2014年3季度至2015年2季度，Z省消费者信心指数最高的季度也是该指数环比增速最快的季度